











Horaires en heures et demi-heure

1 		2 	
3 		4 	
5 		6 	

Horaires en heures et quart d'heure



7 	Il est neuf heures et quart.	8 	
9 		10 	



Horaires en heures et demi-heure

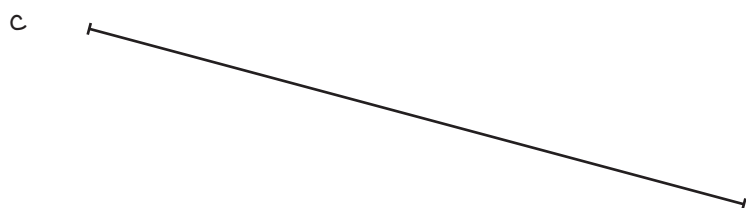

Il est une heure et demie.	Il est midi.	Il est neuf heures.
Il est trois heures.	Il est 9 heures et demie.	Il est cinq heures et demie.
Il est 4 heures et demie.	Il est 12 heures.	

Horaires en heures et quart d'heure

Il est huit heures et quart.	Il est 2 heures et quart.
Il est dix heures et quart.	Il est dix heures moins le quart.








ENTRAINEMENT DIFFÉRENCIÉ

► Lecture de l'heure


1 Complète.

a.




Il est

b.



Il est


c.



Il est


2 Complète.

a.




Il est

b.



Il est


c.



Il est

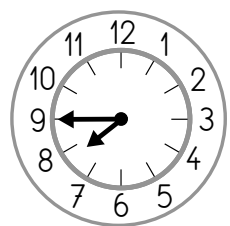
3 Complète.

a.



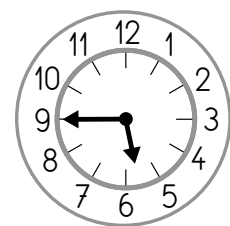
Il est

b.



Il est heures moins le quart.


c.




Il est

4 Dessine l'aiguille qui manque à chaque horloge.


a.

Il est
9 heures.


b.

Il est
6 heures et demie.

c.

Il est
10 heures et demie.

d.

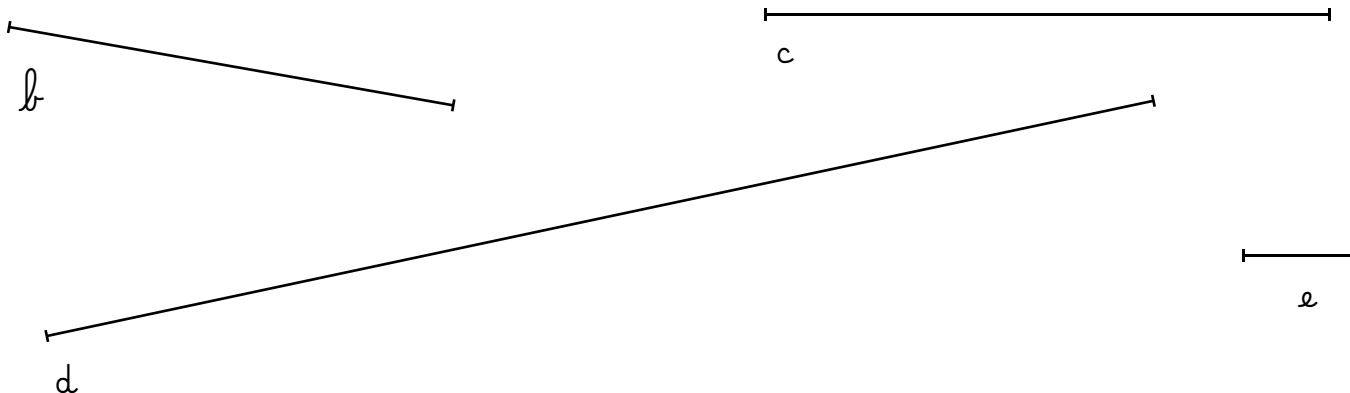
Il est
4 heures et quart.

Pour tous les exercices, utilise une règle graduée en centimètres.

- 1 La longueur du segment est 8 cm. vrai faux

a 

- 2 **Mesure** la longueur de chaque segment.



La longueur du segment *b* est cm.

La longueur du segment *c* est entre cm et cm.


La longueur du segment *d* est cm.

La longueur du segment *e* est entre cm et cm.

- 3 À partir du trait, **trace** un segment qui a pour longueur 12 cm sur les pointillés.

.....

- 4 **Trace** un segment qui a même longueur que le segment *f* sur les pointillés.



.....

ACTIVITÉS COMPLÉMENTAIRES

► Les horaires de l'école

LE MATIN

La rentrée




Il est

La récréation




Il est

La sortie



Il est

Le repas de midi



Il est


L'APRÈS-MIDI

La rentrée



Il est

La récréation



Il est

La sortie



Il est

ACTIVITÉS COMPLÉMENTAIRES

► Loto des heures (Règle du jeu)

Jeu à 3 + un meneur de jeu

Objectif : Lire l'heure sur une horloge à aiguilles : heures entières et heures et demie, heures et quart, heures moins le quart.

Matériel :

Niveau 1 :

- les 3 cartons de loto « horloge » à découper > Fiche 10
- les 24 cartes « horaire » à découper > Fiche 11

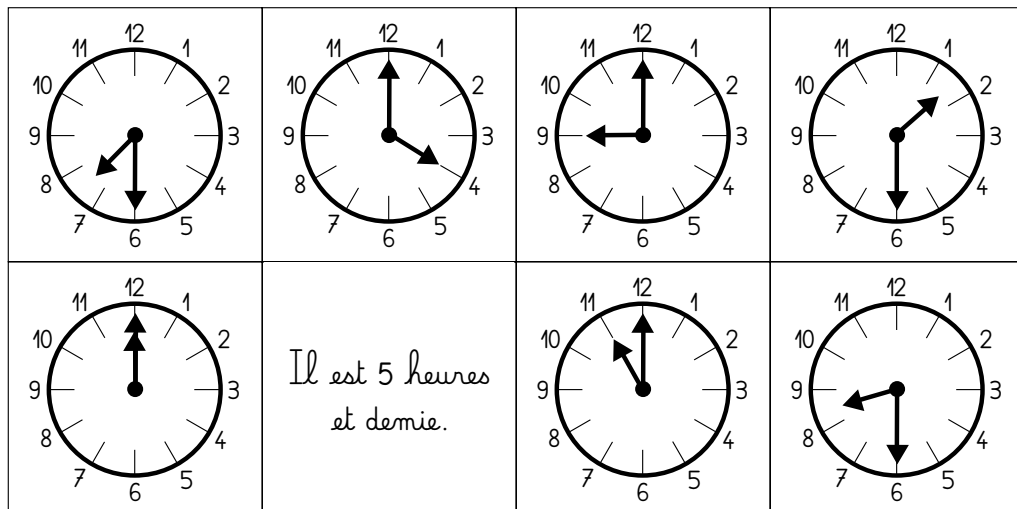
Niveau 2 :

- les 3 cartons de loto « horloge » à découper > Fiche 12
- les 24 cartes « horaire » à découper > Fiche 13

Ce jeu se joue selon les règles classiques du jeu de loto.
Il y a deux niveaux de jeu possibles.

Niveau 1 : heures entières et heures et demie

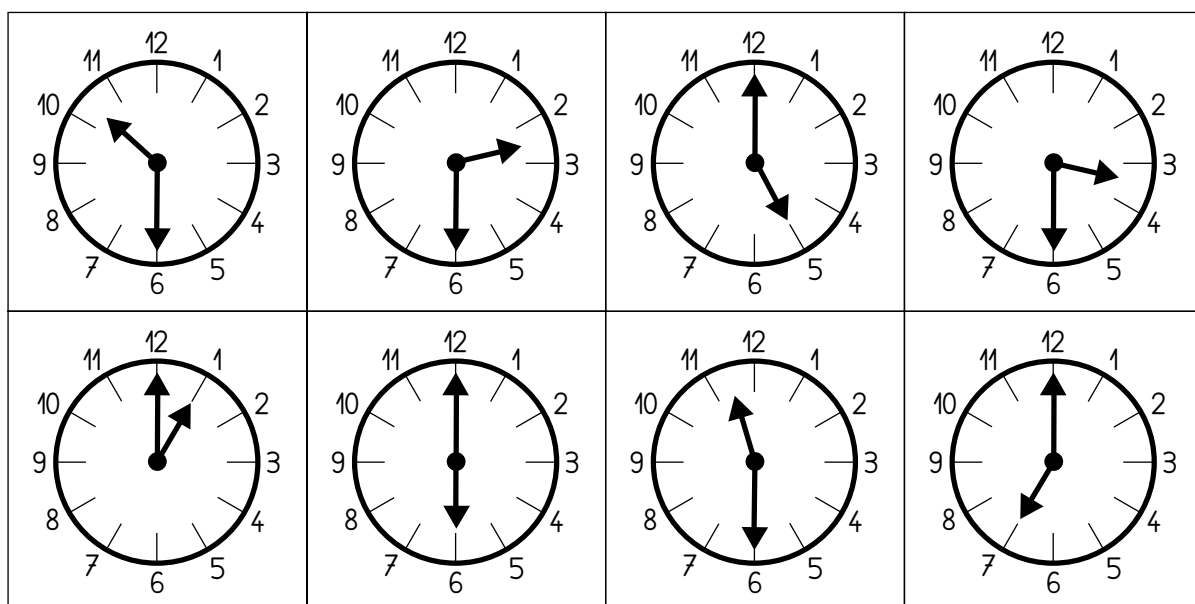
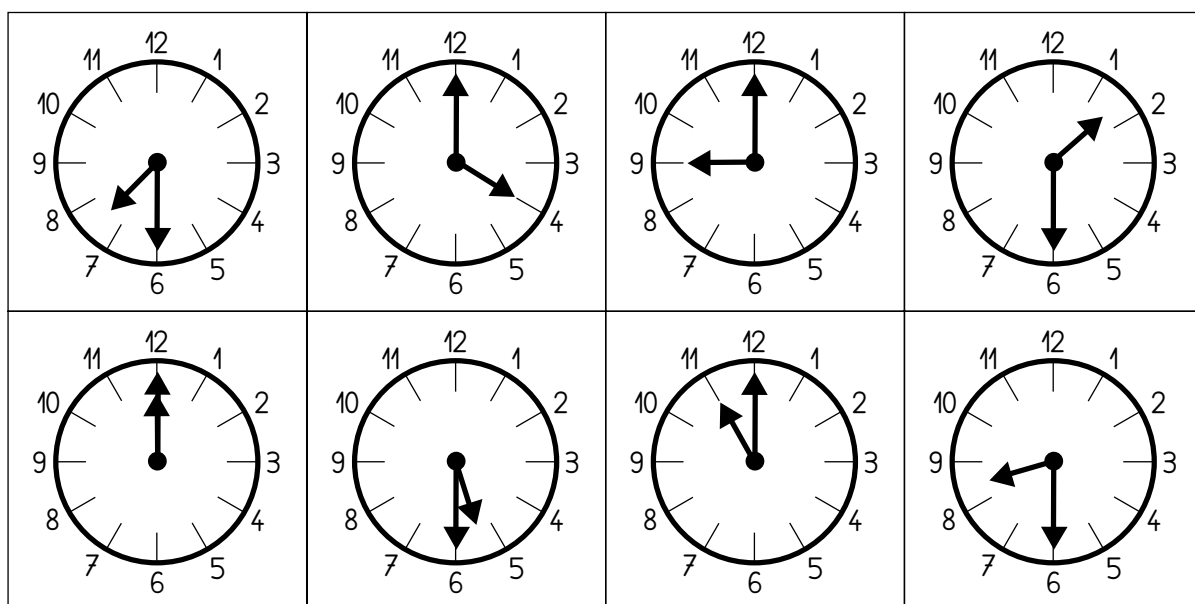
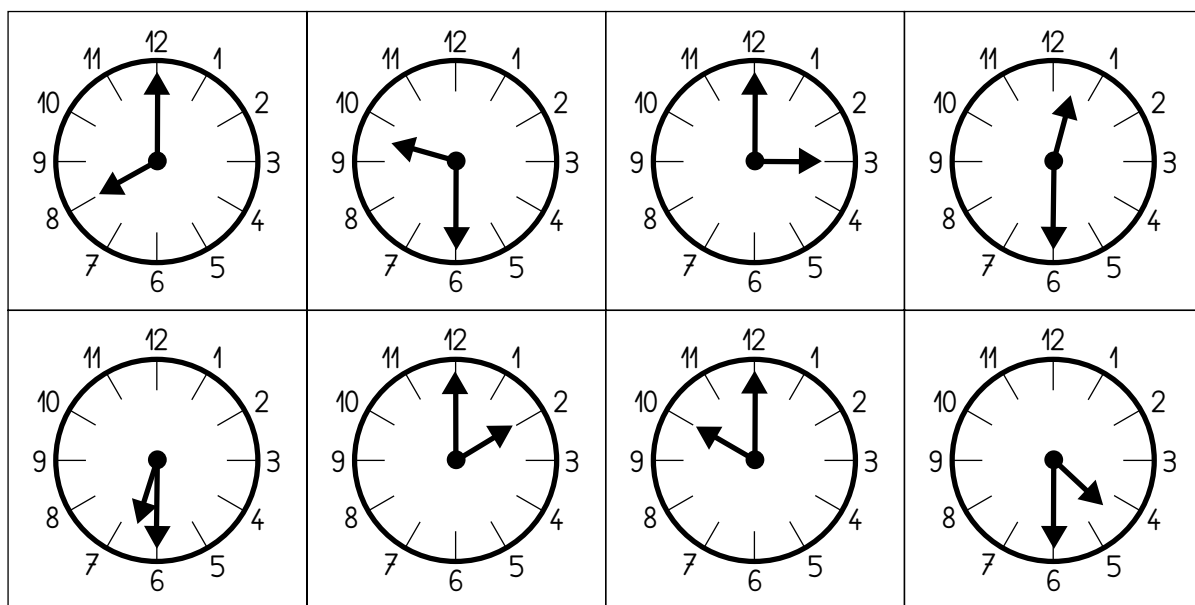
- Chaque joueur a un carton « horloge » et le meneur a les 24 cartes « horaire » disposées en vrac devant lui, faces écrites cachées.
- Le meneur de jeu tire une carte « horaire » au hasard et la lit, par exemple :
→ *Il est 5 heures et demie.*
- L'élève, qui a l'horloge correspondant à cet horaire sur son carton de loto, prend la carte et la place sur l'horloge de son carton. Le meneur de jeu contrôle l'action.



- Le meneur de jeu tire ensuite une nouvelle carte « horaire ».
- Le gagnant est celui qui a le premier recouvert son carton et fait des associations correctes.

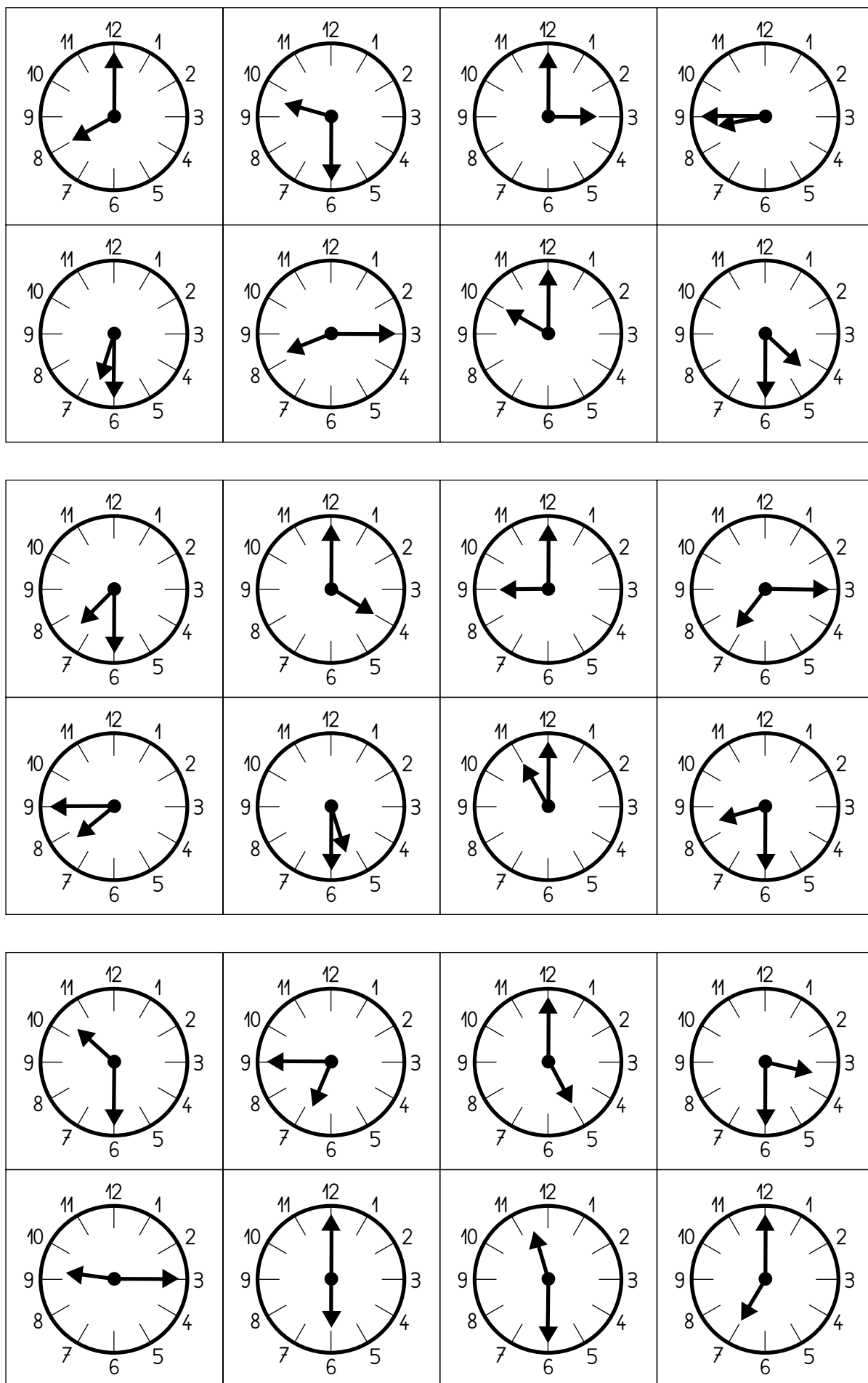
Niveau 2 : Heures entières, heures et demie, heures et quart, heures moins le quart

- Même déroulement que pour le niveau 1 mais avec le matériel des fiches 12 et 13.



► Loto des heures

Il est 8 heures.	Il est 9 heures et demie.	Il est 3 heures.	Il est midi et demie.
Il est 6 heures et demie.	Il est 2 heures.	Il est 10 heures.	Il est 4 heures et demie.
Il est 7 heures et demie.	Il est 4 heures.	Il est 9 heures.	Il est 1 heure et demie.
Il est midi.	Il est 5 heures et demie.	Il est 11 heures.	Il est 8 heures et demie.
Il est 10 heures et demie.	Il est 2 heures et demie.	Il est 5 heures.	Il est 3 heures et demie.
Il est 1 heure.	Il est 6 heures.	Il est 11 heures et demie.	Il est 7 heures.



► Loto des heures

Il est 8 heures.	Il est 9 heures et demie.	Il est 3 heures.	Il est 9 heures moins le quart.
Il est 6 heures et demie.	Il est 8 heures et quart.	Il est 10 heures.	Il est 4 heures et demie.

Il est 7 heures et demie.	Il est 4 heures.	Il est 9 heures.	Il est 7 heures et quart.
Il est 8 heures moins le quart.	Il est 5 heures et demie.	Il est 11 heures.	Il est 8 heures et demie.

Il est 10 heures et demie.	Il est 7 heures moins le quart.	Il est 5 heures.	Il est 3 heures et demie.
Il est 9 heures et quart.	Il est 6 heures.	Il est 11 heures et demie.	Il est 7 heures.